


Welche Bruchschreibweisen der gefärbten Flächen sind richtig?



Prüfe ✓

$$6/24$$

$$3/12$$


$$1/4$$

$$24/6$$

$$6/18$$

$$12/48$$

Welche Bruchschreibweisen der gefärbten Flächen sind richtig?



Prüfe ✓

$$3/10$$

$$1/4$$


$$6/20$$

$$9/30$$

$$6/18$$

$$18/60$$

Welche Bruchschreibweisen der gefärbten Flächen sind richtig?



Prüfe ✓

$3/10$

$1/4$


$6/20$

$9/36$


$6/18$

$3/12$

Welches Bruchergebnis der beiden gemeinsamen gefärbten Flächen ist richtig?



+



Lösung = _____

Prüfe ✓

$5/12$

$1/3$

$10/12$

$9/36$

$12/18$

$8/18$

Welches Bruchergebnis der beiden gemeinsamen gefärbten Flächen ist richtig?

Prüfe ✓

$\frac{4}{14}$

$\frac{1}{3}$

$\frac{7}{12}$

$\frac{9}{36}$

$\frac{12}{18}$

$\frac{8}{18}$

Erstelle eine eigene Aufgabe!

Welches Bruchergebnis deiner beiden gemeinsamen gefärbten Flächen ist richtig?

Prüfe ✓