


Lernthema: Bruchrechnen -Erkennen von Brüchen und Prozenten

Wie viel Prozent des Streifens sind gefärbt?


 %

Wie viel Prozent des Streifens sind gefärbt?


 %

Wie viel Prozent des Streifens sind gefärbt?

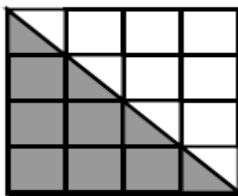

 %

Wie viel Prozent des Streifens sind gefärbt?


 %

Welcher Bruchteil und wie viel Prozent sind grau?

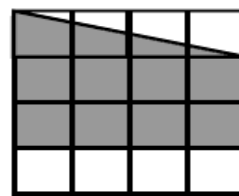
1.



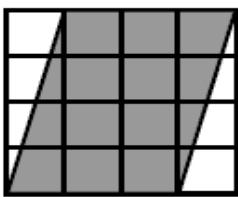
2.



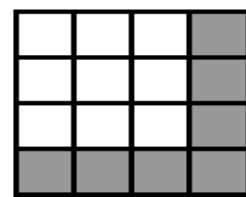
3.



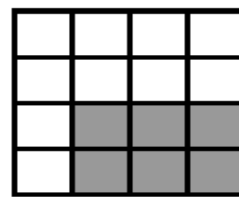
4.



5.



6.



Graue Anteile in	1	2	3	4	5	6
Bruchteile						
Prozent						